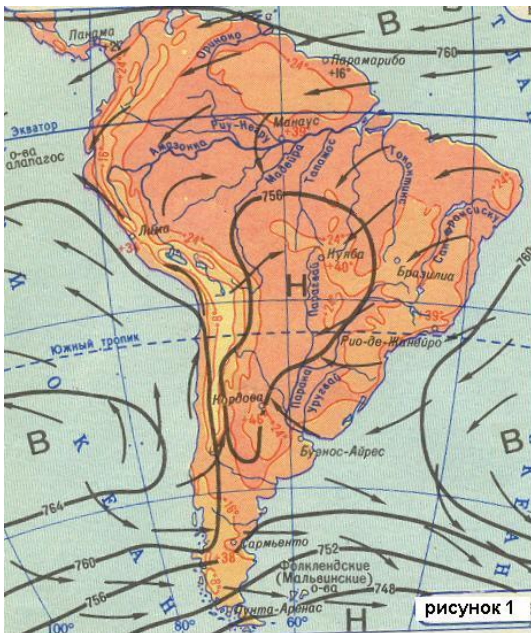


Вопросы школьной олимпиады по географии. 7 класс.

1. Есть река в океане, она не высыхает во время сильных засух и не разливается во время самого большого половодья. Берегами её и руслом служат слои холодной воды, между которыми быстро струятся её тёплые синие воды. Нигде на земном шаре нет столь величественного потока. Он быстрее Амазонки, стремительнее Миссисипи, и масса обеих рек, взятых вместе, не составит тысячной доли объёма воды, который несёт он.

О чём речь? (3 балла)

2. Какое время года показано на карте Южной Америки (рисунок 1) и по каким признакам вы это определили? (4 балла)



3. Даны образцы каменного угля, графита, магнитного железняка и базальта. Назовите признаки, по которым можно отличить каждый минерал друг от друга. (3 балла)

4. Два жителя из северной и южной частей материка ведут непрерывное наблюдение за движением Солнца 23 сентября. Они наблюдают восход Солнца с разных сторон, и движется оно по небу по разным направлениям: для наблюдателя в северной части материка Солнце восходит слева и движется слева направо, для наблюдателя в южной части материка – наоборот: восходит справа и движется справа налево. Первый видит Солнце в полдень точно на юге, второй – точно на севере.

О каком материке или, может быть, материках идёт речь? (4 балла)

5. На Земле есть замечательный материк. Следуя на корабле вдоль его берегов с запада на восток, путешественник пересечёт три океана; север и юг на этом материке могут мгновенно «поменяться» местами. И, наконец, в этих местах человек не всегда в состоянии отличить море от суши.

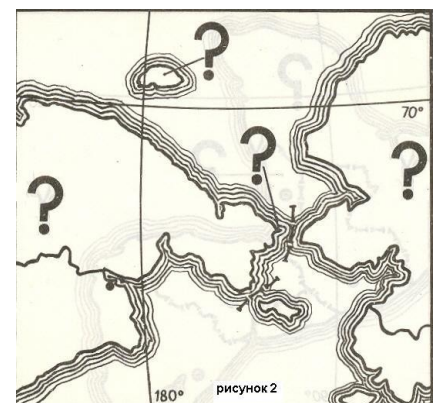
Какой это материк? (3 балла)

6. Определите, что за территория изображена на рисунке 2. Напишите названия объектов, помеченных знаком ? (4 балла)

7. Какая местность расположена «под вами», в другом полушарии, в месте, диаметрально противоположном тому, в котором вы живёте?

Допустим, вы житель Санкт-Петербурга (60° с.ш., 30° в.д.). Определите, кто живёт «под вами» (5 баллов)

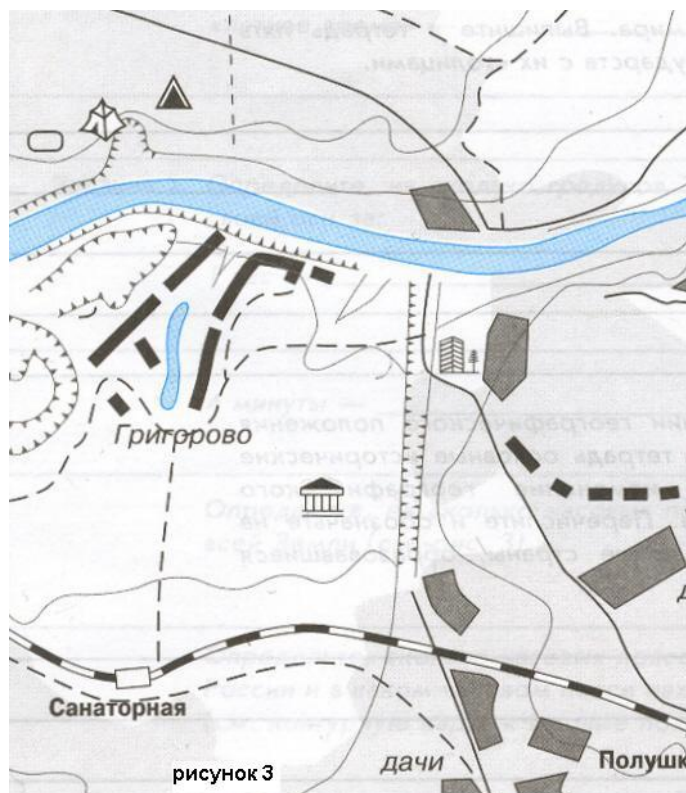
8. Описывая в романе «Таинственный остров» зиму на острове Линкольна, находящемся будто бы под координатами 34°57' ю.ш. и 150°30' з.д., Жюль Верн говорит: «В июле настали жестокие морозы, но, так как колонисты не жалели ни



дров ни угля, в Гранитном дворце было тепло. В начале августа буря несколько утихла, и спокойствие, казалось, уже навсегда утраченное, вернулось атмосфере. Но вместе с успокоением пришли и холода. И столбик термометра упал до -22°C ».

Какую ошибку допустил Ж.Верн в описании зимы на острове Линкольна? (5 баллов)

9. Почему данное изображение (рисунок 3) нельзя отнести к картам? Как правильно назвать данное изображение? (4 балла)



10. На этом материке животное население необычно: здесь есть и рыбы, которые дышат лёгкими, и млекопитающие, которые несут яйца, и крысы, которые прыгают, а не бегают. Здесь почти все млекопитающие – лучшие няньки в мире.

Какой это материк? Кстати, это единственный в мире материк, занятый только одним государством. Каким?

(3 балла)